

KANGOUROU MATHS , Levels 1-2

(Bilingual – Διγλωσσο)

Sample Questions - Δείγμα ερωτήσεων

1.

I read today from page 5 until page 11. How many pages did I read?

Διαβάζω σήμερα από τη σελίδα 5 μέχρι τη σελίδα 11. Πόσες σελίδες διάβασα;

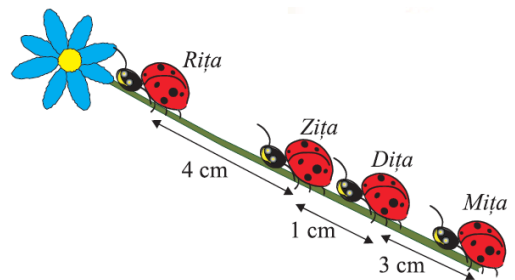
A) 6 B) 7 C) 8 D) 10 E) 12



2. On the stem of one flower there are four ladybugs. At what distance is Rita from Dita?

Πάνω στο κλωνί ενός λουλουδιού υπάρχουν τέσσερις Πασχαλίτσες(παπαρούνες). Πόσο απέχει η Rita από την Dita;

A) 5 cm B) 7 cm
C) 4 cm D) 8 cm
E) 6 cm



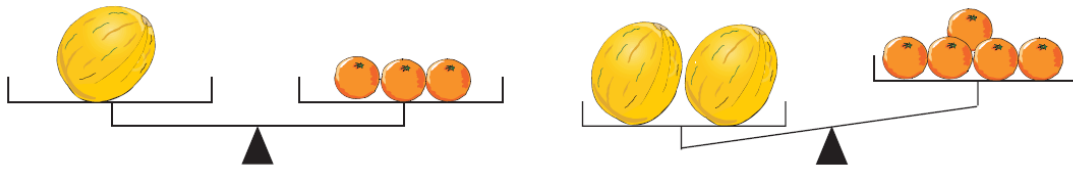
3.

What is the sum of the numbers?
Ποιο είναι το άθροισμα των αριθμών;



A) 7 B) 15 C) 18 D) 20 E) 22

4.



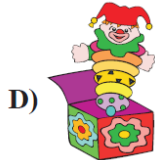



How many oranges must be added on one of the plates of the second scale (the one to the right), so that Libra can balance?

Πόσα πορτοκάλια πρέπει να προσθέσουμε σε ένα από τους δίσκους της δεύτερης ζυγαριάς(αυτής που είναι δεξιά) ώστε να ισοζυγίσει;



5. Which toy is not in the box ?

Ποιο παιχνίδι δεν είναι στο κουτί;




6.

I circled on the calendar the date for today. What will be the date one week from today?

Κύκλωσα στο ημερολόγιο τη σημερινή ημερομηνία. Ποια θα είναι η ημερομηνία σε μια βδομάδα ακριβώς;

- A) 18 B) 19 C) 20 D) 21 E) 22




7. Prince Charming is fighting with the dragon that has 3 red and 5 green heads. At the end of the fight, the Dragon was left with two red and one green heads. How many heads of the Dragon did Prince Charming cut off?

Ο Πρίγκιπας Θαυμάσιος πολεμά με ένα Δράκο που έχει 3 κόκκινα και 5 πράσινα κεφάλια. Στο τέλος της μάχης, ο Δράκος έμεινε με δύο κόκκινα και ένα πράσινο κεφάλι. Πόσα κεφάλια του Δράκου έκοψε ο Πρίγκιπας Θαυμάσιος;

A) 8 B) 7 C) 6 D) 5 E) 4

8. How many books are on the bookshelf?

Πόσα βιβλία βρίσκονται μέσα στη βιβλιοθήκη;



A) 12 B) 27 C) 42 D) 41 E) 45

9. Seven children participate in a running contest. At the finish, in front of Mircea there were so many runners as they were behind him. What place did Mircea finish at the contest?

Επτά παιδιά έλαβαν μέρος σε αγώνα τρέξιμο. Στο τέρμα, υπήρχαν τόσοι μπροστά από το Μάριο όσοι και από πίσω του. Σε ποια θέση τερμάτισε ο Μάριος;

A) 2 B) 3 C) 4 D) 5 E) 6

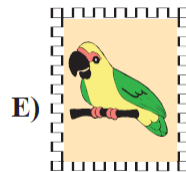




10. The clock beats every so often as fixed time shows on the clock (for example, at 8:00 o'clock it beats 8 times). How many times does the clock beat between 2:35 and 5:25?

Το ρολόι κτυπά τόσες φορές όσες δείχνει η σταθερή ώρα του ρολογιού (δηλαδή, η ώρα 8:00 κτυπά 8 φορές). Πόσες φορές θα κτυπήσει το ρολόι μεταξύ της ώρας 2:35 και 5:25;

A) 3 B) 14 C) 9 D) 12 E) 15

11. Mary, Michael, Andrew and Anna brought one photo for each of their pets. Andrew has a dog and a cat, Michael has a bunny, Ana has a parrot. What pet does Maria have?

Η Μαίρη, ο Μιχάλης, ο Ανδρέας και η Άννα έφεραν μια φωτογραφία για κάθε ένα από τα ζώα τους. Ο Ανδρέας έχει σκύλο και γάτο, ο Μιχάλης έχει κουνέλι και η Άννα έχει παπαγάλο. Τι ζώο έχει η Μαρία;



12. A herd consisting of 5 sheeps, 2 goats and a donkey is added to another herd consisting of 4 sheeps, 5 goats and a donkey. How many animals does the shepherd has now?

Ένα κοπάδι με 5 πρόβατα, 2 κατσίκες και ένα γαϊδούρι προστέθηκε σε άλλο κοπάδι το οποίο έχει 4 πρόβατα, 5 κατσίκες και ένα γαϊδούρι. Πόσα ζώα έχει τώρα ο βοσκός;

A) 9 B) 16 C) 17 D) 18 E) 20






15. How many wheels are in the picture?
 Πόσοι τροχοί υπάρχουν στην εικόνα;



- A) 4 B) 6 C) 8 D) 10 E) 12

16. With what group of students the group shown, when joined, will end up to having the same number of girls and boys?
 Με ποια ομάδα μαθητών θα πρέπει να ενωθεί η ομάδα που φαίνεται ώστε μαζί να υπάρχει ο ίδιος αριθμός αγοριών και κοριτσιών;



- A)  B)  C) 
- D)  E) 



17. While Andria makes three walking steps, her father makes two walking steps. How many steps is Andria walking with her father who is doing ten steps?

Όταν η Άντρη κάνει τρία βήματα, ο πατέρας της κάνει δύο βήματα. Πόσα βήματα περπατά η Άντρη με τον πατέρα της ο οποίος κάνει δέκα βήματα;

- A) 20 B) 10 C) 15 D) 25 E) 5**


18. Which cat's shadow is shown on the wall?

Ποιάς γάτας είναι η σκιά που φαίνεται στον τοίχο;



19. How many two digit numbers could Vivia form combining the 2 cards?


Πόσους διψήφιους αριθμούς μπορεί η Βίβια να δημιουργήσει ενώνοντας τις δύο κάρτες;



- A) 1 B) 2 C) 3 D) 4 E) 5**

20. Children in the image show their date of birth. Which one of them is the youngest?


Τα παιδιά στην εικόνα δείχνουν την ημερομηνία γεννήσεως τους. Ποιο είναι το πιο νεαρό;







- A) Ionuț B) Mircea C) Vlad D) Gelu E) Adi

21. On each gate of the maze, a mouse is entering. Which of them can reach the cheese?

Ένα ποντίκι εισέρχεται σε κάθε είσοδο του λαβύρινθου. Ποιο ποντίκι θα φθάσει στο τυρί;



- A)  B)  C)  D)  E) 